



**GUÍA DE APRENDIZAJE**  
**Matemática (1° Básico)**

**Unidad 0: “Usemos los números hasta el 10”**

NOMBRE : ..... CURSO: .....

<b>OBJETIVO(S) DE APRENDIZAJE:</b>	<ul style="list-style-type: none"><li>➤ Resolver problemas simples de manera concreta y pictórica agregando o quitando hasta 10 elementos, comunicando las acciones llevadas a cabo.</li><li>➤ Identificar en el entorno figuras 3D y figuras 2D y relacionarlas, usando material concreto.</li></ul>
<b>TEMA DEL TRABAJO:</b>	<ul style="list-style-type: none"><li>➤ Resuelven problemas simples identificando si agregaron o quitaron elementos en cada situación.</li><li>➤ Identifican figuras en su entorno.</li></ul>
<b>ACTIVIDADES DE APLICACIÓN:</b>	<ul style="list-style-type: none"><li>➤ Resuelven problemas especificando si quitaron o agregaron elementos</li><li>➤ Identifican triángulos y cuadriláteros en el entorno</li></ul>
<b>MECANISMO DE EVALUACIÓN AL REGRESAR A CLASES:</b>	Revisión a partir de una guía que contemple resolución de problemas y figuras.

• **INSTRUCCIONES GENERALES:**

1.- Las actividades pueden ser resueltas en el cuaderno o en la ficha impresa (en este caso pegar luego de realizada en el cuaderno)



## Figuras

Dibuja en el recuadro objetos que estén en tu entorno y tengan forma de cuadrilátero (escribe el nombre de cada objeto, a lo menos 5)

**Cuadriláteros:** Todas aquellas figuras que tienen 4 lados.

Dibuja en el recuadro objetos que estén en tu entorno y tengan forma triangular (escribe el nombre de cada objeto, a lo menos 5)

**Triángulos:** Todas aquellas figuras que tienen 3 lados.

Ejemplo:



Espejo

Ejemplo:



ESCUADRA



Resuelve los siguientes problemas matemáticos, escribe tu respuesta e identifica si tuviste que **quitar** o **agregar** para encontrar la solución. (marca con una cruz)

**Ejemplo:**

Juan tiene 5 manzanas y se come dos ¿Cuántas manzanas le quedaron?




Respuesta:

¿Qué hice?

3
---

<del>Quitar</del>	Agregar
-------------------	---------

1) Camila tiene 3 caramelos y su profesora le regala otros 3 ¿Con cuántos caramelos se quedará Camila? Dibuja.



Respuesta:


--

¿Qué hice?

Quitar	Agregar
--------	---------

2) Andrés tiene 9 lápices y su prima pequeña le perdió (pidió) 2 ¿Cuántos lápices le quedan a Andrés ahora?

3)



Respuesta:


--

¿Qué hice?

Quitar	Agregar
--------	---------



- 4) Tomás tiene 5 bolitas, jugando con Mateo ganó 4 ¿Cuántas bolitas tiene ahora Tomás? Dibuja.




Respuesta:

¿Qué hice?

Quitar	Agregar
--------	---------

- 5) Florencia y Agustina recolectaron muñecas, Agustina tiene 3 y Florencia tiene 2 ¿Cuántas muñecas tienen entre las dos? Dibuja.




Respuesta:

¿Qué hice?

Quitar	Agregar
--------	---------

- 6) Fernanda tenía 6 pulseras y regaló 2 ¿Cuántas pulseras tiene ahora?



Respuesta:

¿Qué hice?

Quitar	Agregar
--------	---------