



“El sí de la familia marianista”

GUÍA DE APRENDIZAJE N°4

Matemática (1° Básico)

Unidad 1: Conocer números hasta el 50

NOMBRE :..... CURSO:

OBJETIVO(S) DE APRENDIZAJE:	<ul style="list-style-type: none"> ➤ Leer números del 0 al 20 y representarlos en forma concreta, pictórica y simbólica.
TEMA DEL TRABAJO:	<ul style="list-style-type: none"> ➤ Representar cantidades de forma simbólica y pictórica ➤ Secuencia numérica ➤ Resolución de problemas
ACTIVIDADES DE APLICACIÓN:	<ul style="list-style-type: none"> ➤ Representan números hasta el 10 de forma simbólica y pictórica ➤ Encuentran números faltantes en secuencia numérica de números hasta el 10 ➤ Resuelven problemas matemáticos representando pictóricamente y simbólicamente números hasta el 10.
MECANISMO DE EVALUACIÓN AL REGRESAR A CLASES:	Coevaluación - apoyo de familia en casa.

• **INSTRUCCIONES GENERALES:**

1.- Las actividades pueden ser resueltas en el cuaderno o en la ficha impresa (en este caso pegar luego de realizada en el cuaderno)

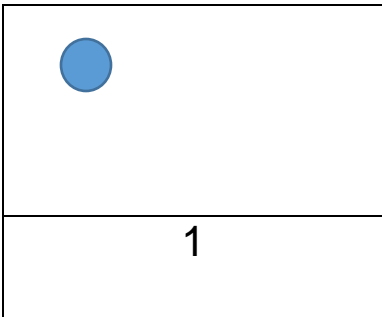

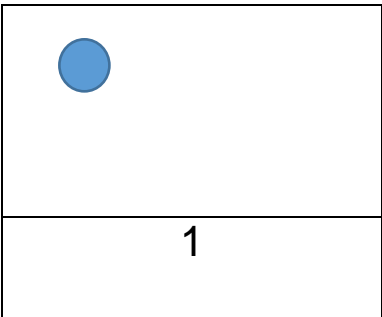
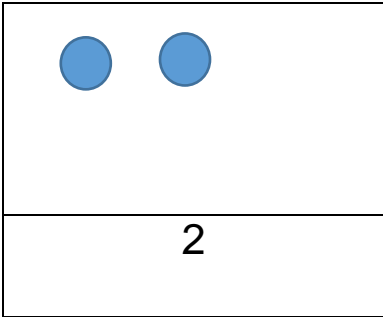
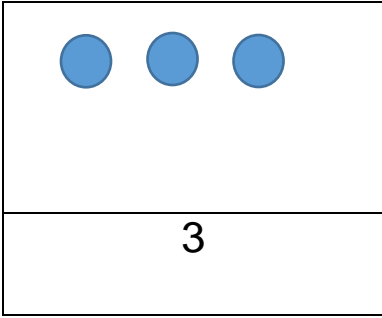
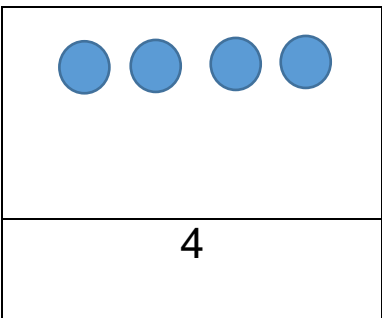
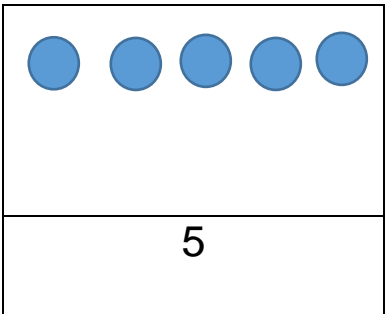
2.- Observar y resolver Power Point “**comparando cantidades**”

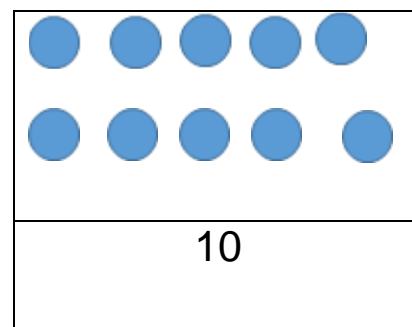
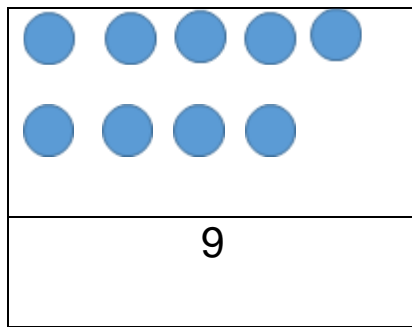
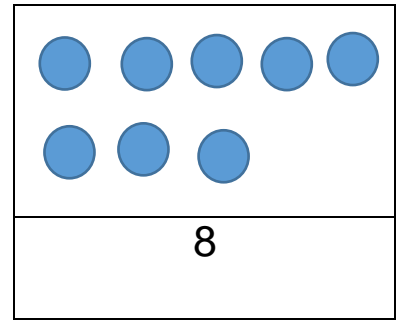
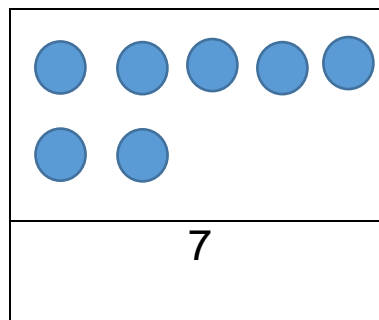
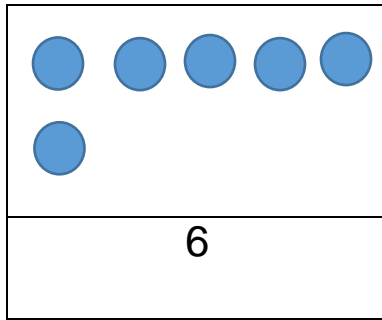


Actividad N°1: Elaboro fichas del cero al 10

Con ayuda de un adulto confecciona 11 fichas que van desde el número 0 al 10.

Escribe en cada ficha el dígito y la cantidad de elementos (puedes plastificarlas con scotch después, ya que estas fichas las seguiremos ocupando más adelante)

		
	Número de elementos ←	
	Dígito ←	
		
		



Pueden ocupar naipes del **1 al 10**, en donde A corresponde a 1 elementos, aprovechando materiales de juegos que tengas en casa.



Actividad N°2: Encuentra los números que faltan

Consejo: Puedes utilizar tus fichas ordenándolas primero del 1 al 10 y luego será más fácil que reconozcas el número que falta.

Pinta en cada ocasión el número que le falta a la secuencia numérica

1)

1	2	3	4		5	6	7	8	9
---	---	---	---	--	---	---	---	---	---

Pinta la respuesta correcta:

5	7
---	---

2)

1	2	3	4	5	6		8	9	10
---	---	---	---	---	---	--	---	---	----

Pinta la respuesta correcta:

7	8
---	---



Colegio Parroquial San Miguel 3)
Unidad Técnico Pedagógica

1	2	3	4	5		7	8	9	10
---	---	---	---	---	--	---	---	---	----

Pinta la respuesta correcta:

3	6
---	---

4)

1	2	3	4	5	6	7	8	9	
---	---	---	---	---	---	---	---	---	--

Pinta la respuesta correcta:

10	11
----	----

5)

1		3	4	5	6	7	8	9	10
---	--	---	---	---	---	---	---	---	----

Pinta la respuesta correcta:

1	2
---	---



Actividad N°3: Resuelvo un problema matemático



Para resolver el siguiente problema recuerda seguir los pasos aprendidos en la guía anterior, no olvides identificar si **agregaste o quitaste** elementos.

Además, debes saber que para representar los objetos que aparecen en un problema, por ejemplo: Juan tiene 5 manzanas... , no es necesario dibujar las 5 manzanas, puedes dibujar figuras geométricas, palitos, puntos, lo que para ti sea más fácil y significativo.

Resuelve:

Simón tiene 10 globos y le regala a su hermana Matilde perdió 4 de ellos
¿Cuántos globos tendrá Simón ahora +?

Respuesta:

¿Qué hice?

Quitar	Agregar
--------	---------