



“El sí de la familia marianista”

GUÍA DE APRENDIZAJE
Período del 03 al 08 de abril, 2020
Matemática (1° Básico)
Unidad 1: Conocer números hasta el 50

NOMBRE : CURSO:

OBJETIVO(S) DE APRENDIZAJE:	➤ Leer números del 0 al 20 y representarlos en forma concreta, pictórica y simbólica.
TEMA DEL TRABAJO:	➤ Representan cantidades de manera concreta y escriben el número representado.
ACTIVIDADES DE APLICACIÓN:	<ul style="list-style-type: none"> ➤ Escriben números del 1 al 9. ➤ Representan pictórica y simbólicamente números hasta el 5. ➤ Resuelven problemas matemáticos representando pictóricamente y simbólicamente números hasta el 10.
MECANISMO DE EVALUACIÓN AL REGRESAR A CLASES:	Realizan actividad de evaluación vía digital, que posteriormente será enviada por la docente.

- **INSTRUCCIONES GENERALES:**

1.- Las actividades pueden ser resueltas en el cuaderno o en la ficha impresa (en este caso pegar luego de realizada en el cuaderno)






Actividad N°1: Escribo números hasta el 10

Escribe en tu cuaderno 5 filas de números 1, 2, 3, 4, 5, 6, 7, 8 y 9 como se muestra a continuación, puedes pedir a un adulto que marque los primeros números y tu continuar hacia utilizando 2 cuadros hacia abajo por cada número, una vez terminada la fila debes saltar 2 espacios más hacia abajo y continuar con la siguiente.

A considerar: recuerda trabajar con calma, con tu cuaderno ordenado, sin doblar las hojas y tomando el lápiz de una manera cómoda sin presionar tanto (Usar lápiz grafito). Puedes hacer las tareas parcializando la escritura en una fila por día.

Respetar los márgenes del cuaderno y la separación entre letra y letra.



Actividad N°2: Represento números hasta el 5

Completa las siguientes fichas marcando el número, escribiendo y pintando tantos círculos como la cantidad de elementos que aparecen en las imágenes.

(Padres y apoderados estas actividades están en el libro de matemáticas de los estudiantes en las páginas 9, 11 y 12 para que quienes pudieron ir a buscar el libro las puedan realizar allí)



Actividad N°3: Resuelvo un problema matemático



Para resolver el siguiente problema recuerda seguir los pasos aprendidos en la guía anterior, no olvides identificar si **agregaste o quitaste** elementos.

Además, debes saber que para representar los objetos que aparecen en un problema, por ejemplo: Juan tiene 5 manzanas... , no es necesario dibujar las 5 manzanas, puedes dibujar figuras geométricas, palitos, puntos, lo que para ti sea más fácil y significativo.

Resuelve:

Alex tiene 9 bolitas y jugando con Tomás perdió 7 de ellas ¿Cuántas bolitas tiene ahora Alex?

Respuesta:

¿Qué hice?

Quitar	Agregar
--------	---------